


<b>Ingénierie, Innovation et Développement Durable</b>		<b>TSTI2D</b>
	Comment est structuré le produit ?	<b>SEANCE 2</b>
	<b>Analyse de l'organisation fonctionnelle et structurelle du produit</b>	Activité 1


<b>Durée : 2 H 00</b> <b>Objectif visé :</b> O3 - Analyser l'organisation fonctionnelle et structurelle d'un produit O2 - Identifier les éléments influents du développement d'un produit <b>Compétences :</b> CO 2.1 CO 3.1 <b>Connaissance visée :</b> SA 1.1.2 Communication technique SA 3.1.4 Post traitement et analyse des résultats SA 4.1.2 Outils de représentation schématiques <b>Matériel nécessaire :</b> Poste informatique équipé d'internet et du logiciel de simulation Proteus ISIS		
---	--	---

**Objectifs de l'activité :** L'objectif de cette activité est d'analyser les informations contenues dans le cahier des charges et de s'appropriier les différents diagrammes SysML afin de préparer la réalisation matérielle du projet. En travail de groupe, chaque ilot doit effectuer des recherches afin d'analyser la réponse à apporter au problème posé.

- D'identifier et caractériser les fonctions et les constituants d'un produit ainsi que ses entrées/sorties à partir de diagrammes SysML
- D'interpréter les résultats issus de la simulation afin d'analyser le comportement du produit

## 1) Présentation du PROJET : Étude de l'objet Serrure connectée

La serrure connectée se développe de plus en plus. Si la France a pris du retard dans ce domaine comparé aux pays comme la Corée du Sud ou les États-Unis, cela reste un marché en pleine évolution. Ainsi, une étude Coda Stratégie évalue le taux actuel d'équipement des ménages français à seulement 3% (2021), mais estime cependant la progression du marché européen à 122 millions d'euros en 2025.



Côté installateurs, la dernière étude de TBC Innovation sur le marché français de la porte d'entrée va dans le même sens : le nombre de professionnels ayant déclaré avoir posé une serrure connectée a triplé entre 2019 et 2020, passant de 4% (2019) à 11% (2020)<sup>(1)</sup>.

Employé dans une Startup, on vous charge d'étudier et de développer une solution de contrôle d'accès de l'habitat avec la réalisation d'une serrure connectée. Celle-ci doit permettre le verrouillage de l'accès en local par clavier, puis par la suite de l'étude à distance via une application Web.

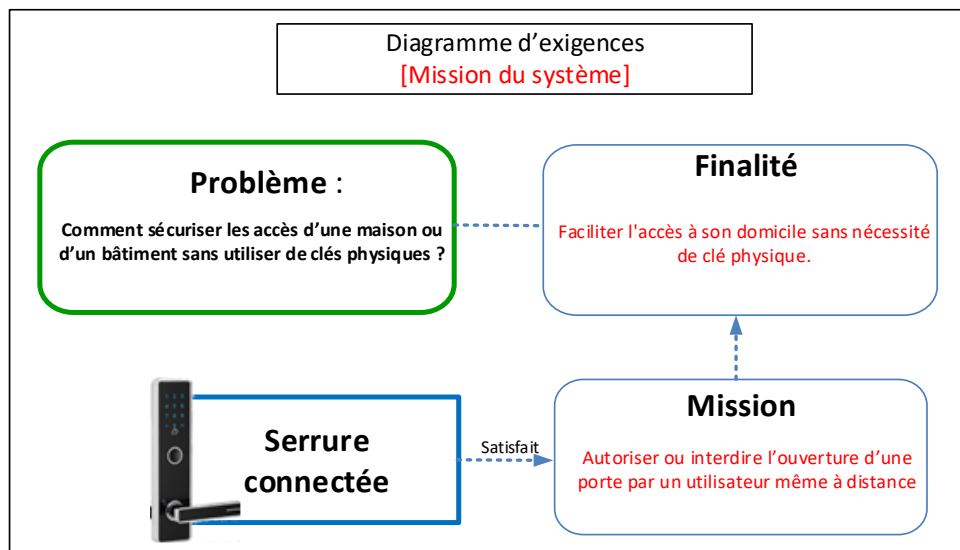
(1) Extrait du dossier Portes d'entrée de L'Echo de la baie n°140, d'Avril 2021

## 2) CAHIER DES CHARGES

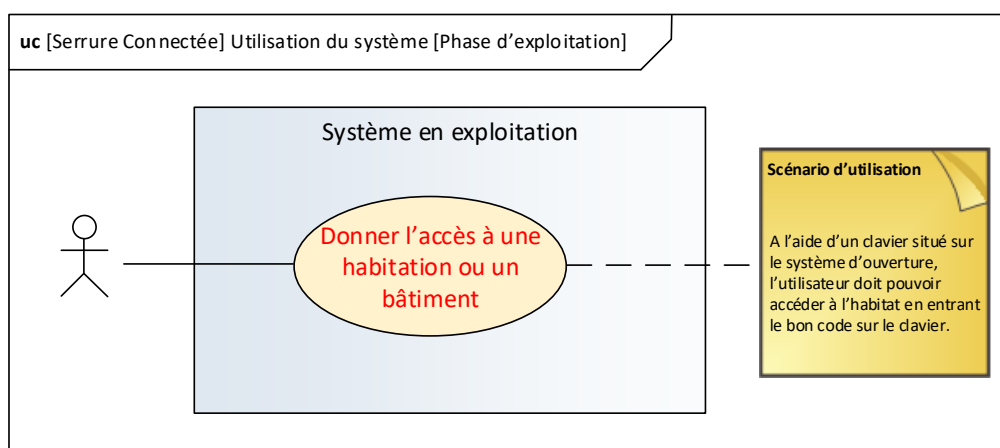
La définition du cahier des charges est partiellement représentée par un ensemble de diagrammes SysML donnés sur les pages suivantes. Cette première étude ne prend en compte que l'accès au local par la partie clavier.

On vous demande d'étudier dans la troisième partie de ce sujet le fonctionnement et les éléments du produit en analysant les différents diagrammes SysML.

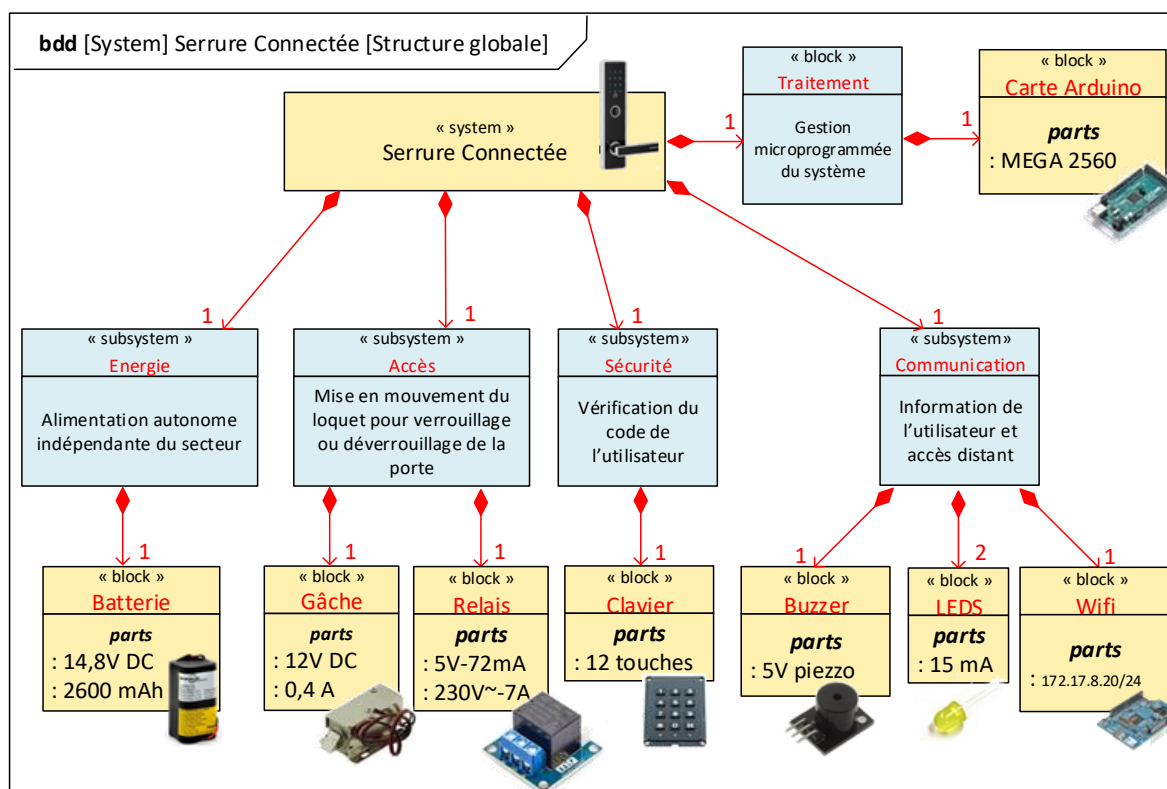
## Diagramme d'expression du besoin :



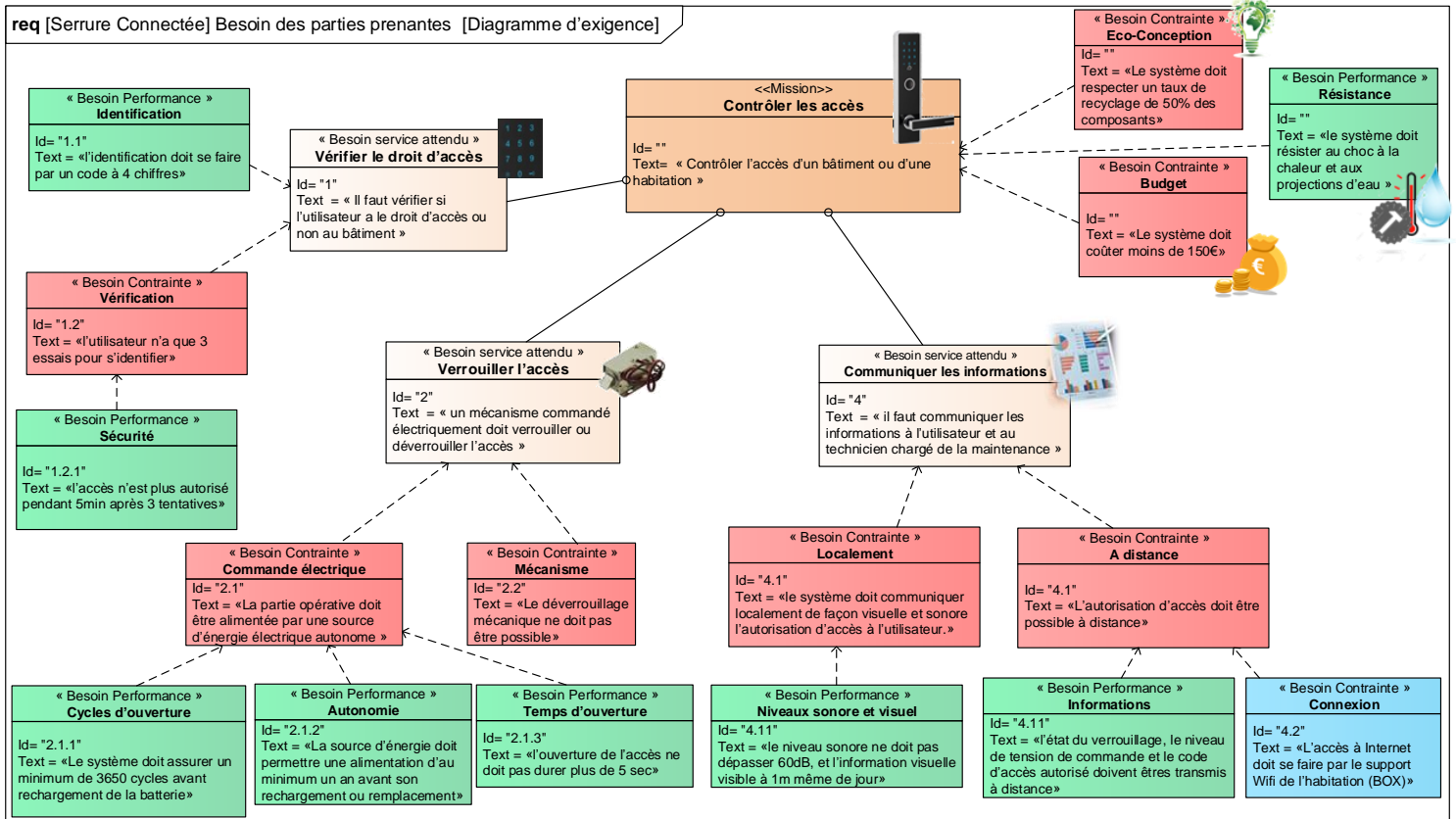
## Diagramme de cas d'utilisation (service rendu par le système) :



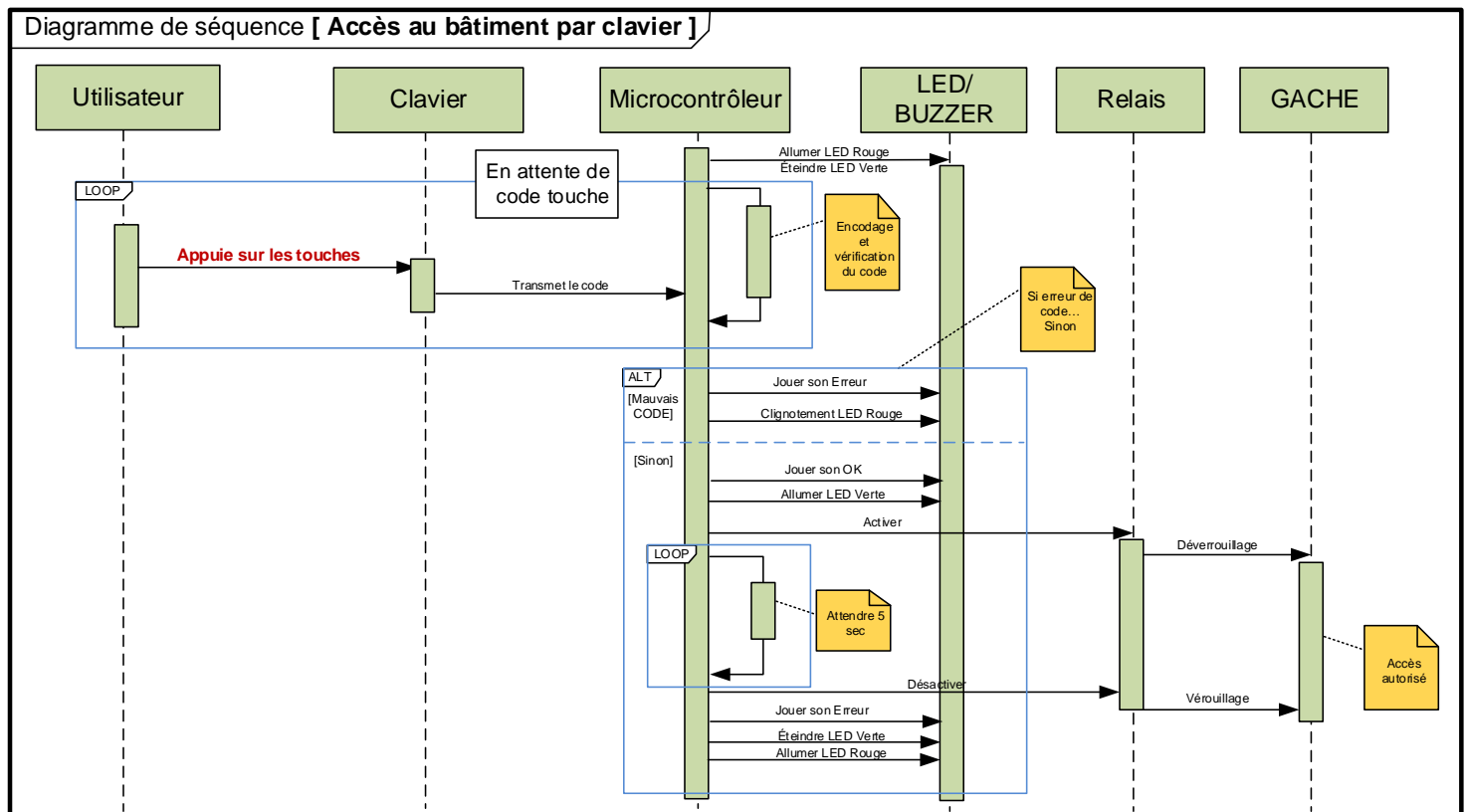
## Diagramme de définition de blocs (organisation matérielle) :



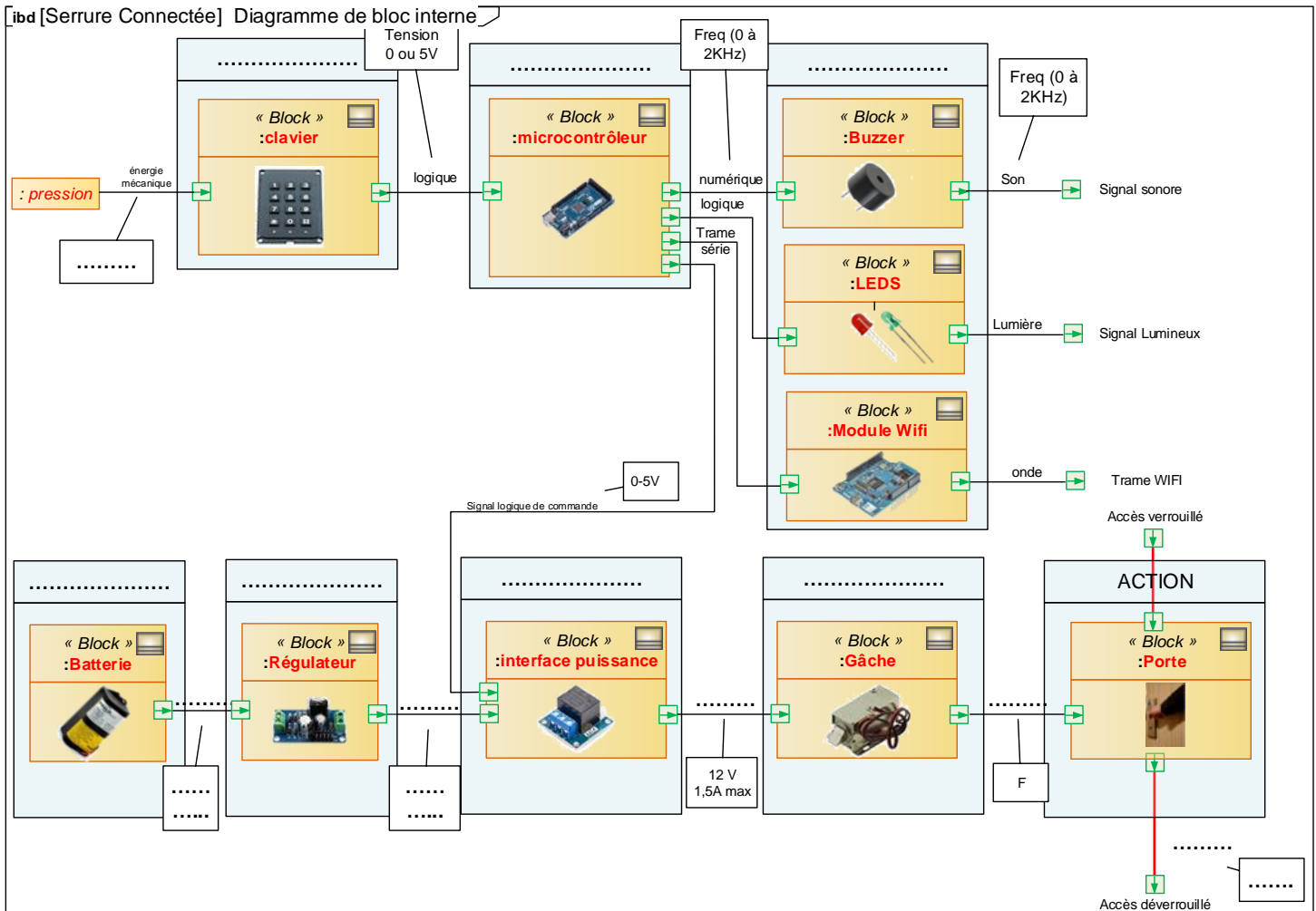
## Diagramme d'exigences (besoins des parties prenantes) :



## Diagramme de séquence (opérations chronologiques réalisées par un acteur) :



## Diagramme de bloc interne (structure interne du système) :



### 3) Analyse du Cahier des charges

À partir des différents diagrammes SysML du produit, répondez aux questions suivantes :

**Q1** : De combien de chiffres est composé le code d'accès entré par l'utilisateur sur le clavier ?  
De combien de touches est constitué le clavier ?

.....

**Q2** : **Comment** doit réagir le système si l'utilisateur entre le mauvais code au clavier ?

.....

.....

**Q3** : Quelles sont les informations transmises par le système au technicien ?

.....

.....

**Q4** : Combien de temps l'accès est-il possible si l'utilisateur entre le bon code au clavier ?

.....

**Q5 :** Citez tous les éléments matériels faisant partie de la chaîne de puissance du système :

.....

.....

**Q6 :** Quel est le rôle du relais dans le système ?

.....

.....

**Q7 :** Quelle est la tension nominale de la batterie Li-ion ? De combien d'éléments est-elle alors constituée ? Identifiez alors la tension de décharge maximale de la batterie ?

**Rappel :**

Technologie des éléments de batteries	Tension nominale d'un élément	Tension de décharge max par élément	Cycles de vie / Durée de vie max
Lithium ion	3,7 V	2,5 V	300 à 500 cycles / 3 ans

.....

.....

**Q8 :** Quel est le rôle de la gâche électrique dans ce produit ? Quelle est sa consommation en courant lorsqu'elle est activée ?

.....

.....

**Q9 :** Combien de cycle d'ouverture peut-on avoir avant décharge de la batterie ? Le cahier des charges est-il respecté ?

.....

.....

.....

.....

.....

**Q10 :** Vérifiez que la contrainte du cahier des charges est toujours vérifiée si l'on souhaite utiliser la batterie en toute sécurité (en évitant la décharge profonde...) ?

.....

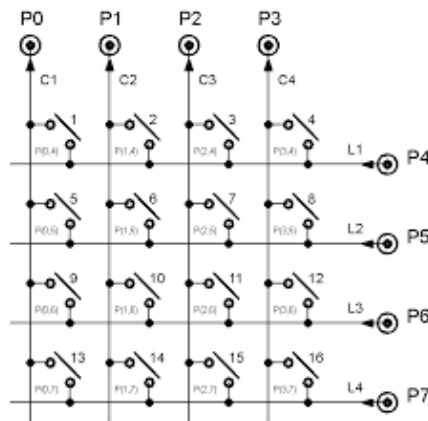
.....

.....

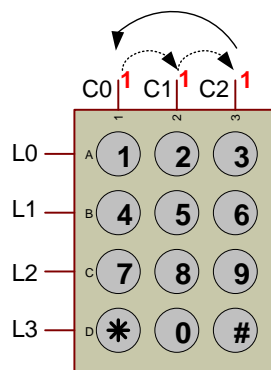
**Q11 :** Complétez **les fonctions** de chaque bloc du système sur le diagramme de bloc interne de la page 4.

## 4) Étude du fonctionnement d'un clavier

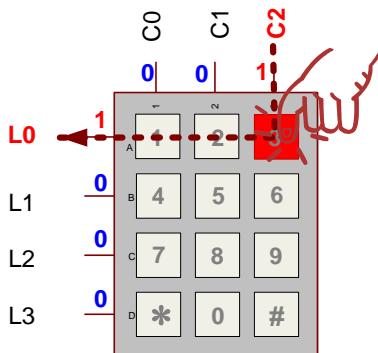
Un clavier est composé de boutons poussoirs intégrés comme une matrice de ligne et de colonnes :



Dans le système étudié, les colonnes **C2 à C0** du clavier sont **scrutées** toutes les 10ms, c'est à dire **qu'un "1" logique circule sur chaque colonne** toute les **10ms**



Lors de l'appui d'une touche, une des lignes **L3-L0** correspondant récupère le « 1 » Logique :



Le code binaire **MATRICIEL** ainsi créé par :

**L3 L2 L1 L0 C2 C1 C0**

sera alors transformé (**CODÉ**) en un **octet binaire** :

**D7 D6 D5 D4 D3 D2 D1 D0**

dont la valeur décimale représentera le **code ASCII de la touche appuyée**. Ex : Touche "3" ⇒ D7-D0 = %00110011

### ♦ ETUDE PRELIMINAIRE :

**Vérification des Prérequis** (Conversion Binaire → hexadécimale)

**Q12** : Donnez la conversion en hexadécimal des valeurs binaires suivantes :

%10001111 : .....

% 10110110 : .....

%11 0001 1100 : .....

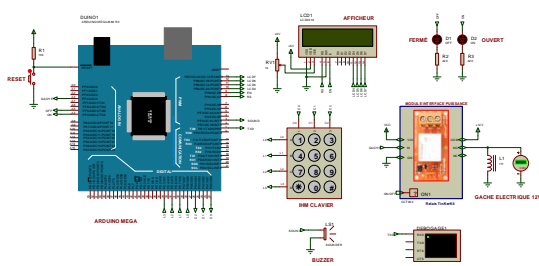
%1011 : .....

**Q13** : Complétez le tableau suivant correspondant aux différents codes matriciels du clavier en fonction de la touche appuyée

Touches		CODE MATRICIEL								HEXA
		Bit7	Bit6	Bit5	Bit4	Bit3	Bit2	Bit1	Bit0	
		NC*	L3	L2	L1	L0	C2	C1	C0	
5	%	0								
0	%	0								
9	%	0								
1	%	0								
*	%	0								
6	%	0								
#	%	0								
Aucune	%	0					1	0	0	
	%	0					0	1	0	
	%	0					0	0	1	

\*NC : non connecté

**Q14** : En vous aidant du schéma de simulation ISIS "**SERRURE CONNECTEE.DSN**", indiquez pour chaque broche du circuit Arduino dans le tableau ci-dessous:



- le nom du signal connecté à la broche,
- le sens de transfert : en **entrée (IN)** OU en **sortie (OUT)**

Broches	8 et 9	10 à 13	A3	A4	A5	22	24
Signal	EN – RS	LCDx					
Sens	OUT	OUT					

Broches	26	28	30	32	34	1	3
Signal							
Sens							

🔌 Chargez le programme "[clavier.ino.mega.hex](#)" dans le microcontrôleur ARDUINO Mega :

...\\Ressources\\Simulation\\[clavier.ino.mega.hex](#)

**Q15** : En vous aidant du **débogueur** du modèle de simulation ISIS, indiquez pour chaque touche enfoncée le code BIN, HEXA et DEC correspondant. En utilisant la ressource "Table ASCII", recherchez le caractère correspondant au code hexa ou décimal de la touche appuyée.

Touches	D7	D6	D5	D4	D3	D2	D1	D0	HEXA	DEC	Caractère ASCII
1									\$		
2									\$		
3									\$		
4									\$		
5									\$		
6									\$		
7									\$		
8									\$		
9									\$		
*									\$		
0									\$		
#									\$		

## Ressource : Table ASCII

La table ASCII :

Dec	Hex	Char	Dec	Hex	Char	Dec	Hex	Char	Dec	Hex	Char
0	00	Null	32	20	Space	64	40	@	96	60	`
1	01	Start of heading	33	21	!	65	41	A	97	61	a
2	02	Start of text	34	22	"	66	42	B	98	62	b
3	03	End of text	35	23	#	67	43	C	99	63	c
4	04	End of transmit	36	24	\$	68	44	D	100	64	d
5	05	Enquiry	37	25	%	69	45	E	101	65	e
6	06	Acknowledge	38	26	&	70	46	F	102	66	f
7	07	Audible bell	39	27	'	71	47	G	103	67	g
8	08	Backspace	40	28	(	72	48	H	104	68	h
9	09	Horizontal tab	41	29	)	73	49	I	105	69	i
10	0A	Line feed	42	2A	*	74	4A	J	106	6A	j
11	0B	Vertical tab	43	2B	+	75	4B	K	107	6B	k
12	0C	Form feed	44	2C	,	76	4C	L	108	6C	l
13	0D	Carriage return	45	2D	-	77	4D	M	109	6D	m
14	0E	Shift out	46	2E	.	78	4E	N	110	6E	n
15	0F	Shift in	47	2F	/	79	4F	O	111	6F	o
16	10	Data link escape	48	30	0	80	50	P	112	70	p
17	11	Device control 1	49	31	1	81	51	Q	113	71	q
18	12	Device control 2	50	32	2	82	52	R	114	72	r
19	13	Device control 3	51	33	3	83	53	S	115	73	s
20	14	Device control 4	52	34	4	84	54	T	116	74	t
21	15	Neg. acknowledge	53	35	5	85	55	U	117	75	u
22	16	Synchronous idle	54	36	6	86	56	V	118	76	v
23	17	End trans. block	55	37	7	87	57	W	119	77	w
24	18	Cancel	56	38	8	88	58	X	120	78	x
25	19	End of medium	57	39	9	89	59	Y	121	79	y
26	1A	Substitution	58	3A	:	90	5A	Z	122	7A	z
27	1B	Escape	59	3B	;	91	5B	[	123	7B	{
28	1C	File separator	60	3C	<	92	5C	\	124	7C	
29	1D	Group separator	61	3D	=	93	5D	]	125	7D	}
30	1E	Record separator	62	3E	>	94	5E	^	126	7E	~
31	1F	Unit separator	63	3F	?	95	5F	_	127	7F	□



**Q16** : Que permet de faire à votre avis la librairie "**Keypad**" utilisée dans le programme "clavier.ino" ?

.....

.....

.....

**Q17** : Comment, à partir de la **valeur hexadécimale** de la touche appuyée nommée "**key**", retrouver la valeur **numérique correspondant** au caractère ASCII nommée "**valDEC**"?

Exemple : touche **3** -> Valeur de Key en ASCII : **\$33** -> valDEC = **3**

.....

.....

.....

.....

.....