

BREVET DE TECHNICIEN SUPERIEUR

ELECTROTECHNIQUE

SESSION 2015

ÉPREUVE E4.2

PRESSE A ENCOCHER SCHAAL3

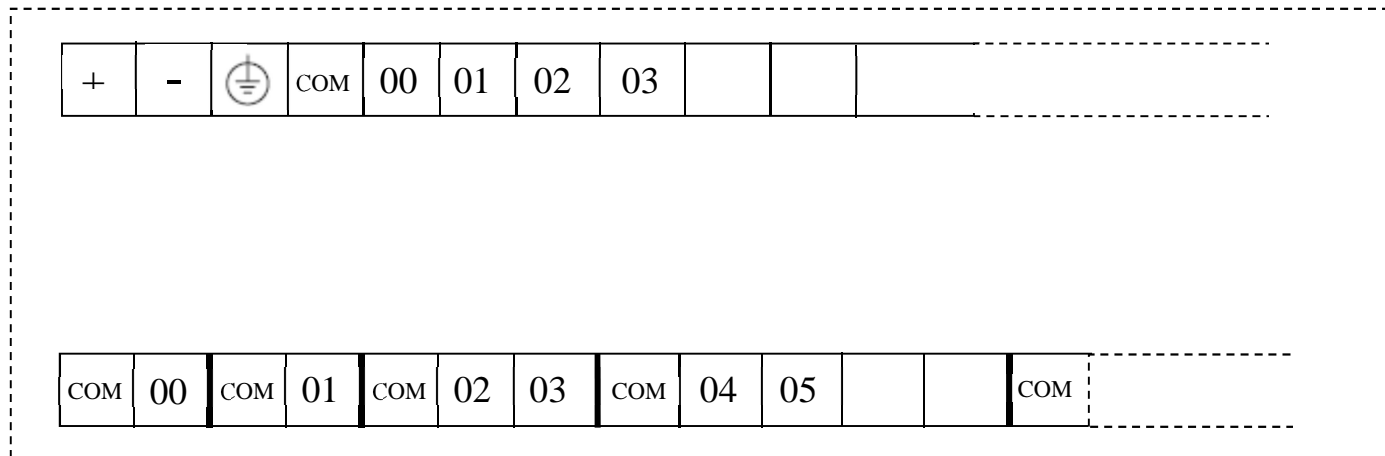
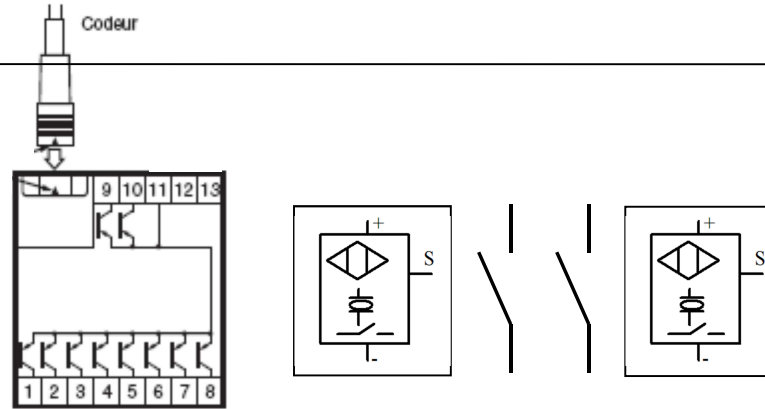


DOSSIER RÉPONSES

- Ce dossier contient les documents réponses à compléter, pour lesquels les repères sont les mêmes que les questions correspondantes au dossier questionnement.
- Les documents réponses sont à rendre agrafés au bas d'une copie.

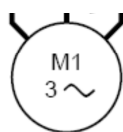
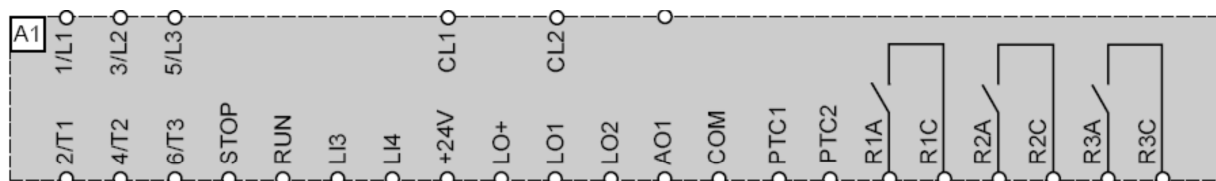
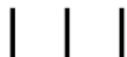
Compléter le schéma des entrées/sorties API de l'installation rénovée (B.2.10)

Alimentation



Alimentation

Compléter le schéma proposé (C.2.2)



Compléter le schéma proposé (D5)

