

Thomas après avoir obtenu son C.A.P. a été embauché dans une entreprise métallurgique. Pour son premier jour de travail, Thomas décide de prendre un petit déjeuner, ce qu'il ne fait pas d'habitude.

1 – Thomas compose son petit déjeuner.

1.1 - Parmi la liste des aliments ci-dessous, entourer 4 aliments pouvant permettre de composer un petit déjeuner équilibré.

2 points

| | | | |
|--------|----------------|-----------|--------------------|
| Viande | Pain | Confiture | Poisson |
| Huile | Raisin | Lait | Chocolat à croquer |
| Beurre | Haricots verts | Sucre | Compote |
| Pâté | Jus d'orange | | |

1.2 - Citer deux risques pris par Thomas lorsqu'il "oublie" le petit déjeuner.

1 point

.....

.....

2 – L'étiquette du lait consommé par Thomas est représentée ci dessous :



2.1 – Donner la signification du sigle U.H.T.

0,5 point

.....

| | | | |
|--------------------------------|-----------------|---------------|--|
| C.A.P. SECTEUR INDUSTRIEL | | N° d'anonymat | |
| Vie Sociale et Professionnelle | | | |
| X | | | |
| GROUPEMENT INTERACADEMIQUE II | | Session 2003 | |
| C.A.P. SECTEUR INDUSTRIEL | | N° d'anonymat | |
| Vie Sociale et Professionnelle | | | |
| Jeu di 12 juin 2003 | | | |
| SUJET | Durée : 1 heure | | |
| NOM : Prénom : | | | |

2.2 – Relever le traitement subi par ce lait.

0,5 point

.....

.....

2.3 – Indiquer dans quel groupe alimentaire se classe cet aliment.

1 point

.....

.....

.....

2.4 – Relever 2 composants de cet aliment participant à la croissance et à la fortification des os.

2 points

.....

.....

2.5 – Citer un aliment autre que le lait pouvant fournir du calcium.

0,5 point

.....

.....

3 – Thomas habite une ville où se pratique la collecte sélective des déchets.

*La collecte
sélective des
déchets va
représenter un
changement dans
notre vie*

Derrière cette habitude à prendre, des enjeux importants sont en œuvre :
Il s'agit de préserver notre environnement et de maîtriser les dépenses de la collectivité.
Avec ce livret nous avons la volonté de tout vous dire sur le fonctionnement du tri et du recyclage.

Extrait du livret du SIRTOM Granvillais.

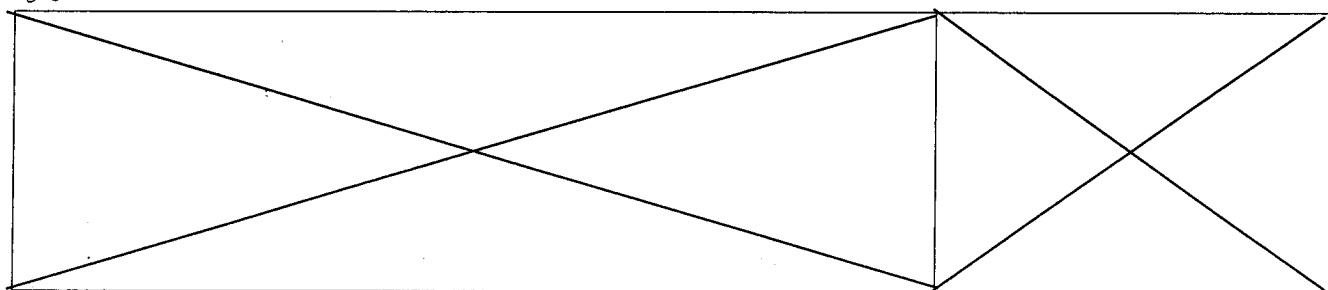
3.1 – En vous aidant du document ci-dessus, indiquer deux objectifs de la collecte sélective des déchets.

1 point

.....

.....

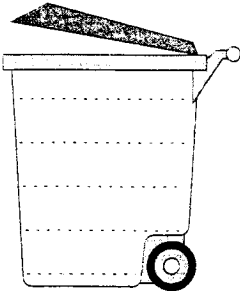
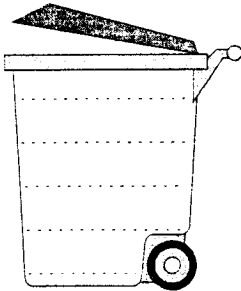
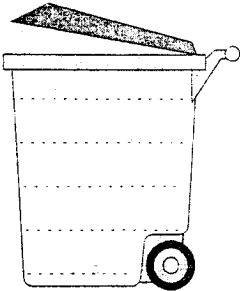
| | |
|--------------------------------|---------------|
| C.A.P. SECTEUR INDUSTRIEL | N° d'anonymat |
| Vie sociale et professionnelle | Page 2/5 |



3.2 - Le document ci-dessous présente des « éco-poubelles ».
Classer les déchets ménagers dans la bonne poubelle.

2,5 points

Le classement des déchets dans les « éco-poubelles »

| | | | |
|--|---|--|--|
| <ul style="list-style-type: none"> • Bouteilles en verre • Bouteilles plastique • Canette en métal • Catalogue • Épluchures • Feuilles de papier • Publicités • Restes alimentaires • Sac de l'aspirateur |  <p>Poubelle rouge Déchets non recyclables</p> |  <p>Poubelle bleue Papiers</p> |  <p>Poubelle verte Emballages recyclables</p> |
|--|---|--|--|

Source : Pochette CAP - Réflexe
VSP – santé, environnement – NATHAN technique

3.3 – Nommer 4 produits recyclables les plus souvent récupérés.

2 points

.....

.....

.....

.....



3.4 – Sur l'étiquette de l'emballage du lait, Thomas a observé ce pictogramme
Parmi ces 2 propositions, entourer la signification correspondant à ce logo :

1 point

- produit recyclable
- participation du fabricant au financement de la valorisation des emballages

3.5 – Que faire des produits ci-dessous ? Proposer au moins une solution.

1,5 point

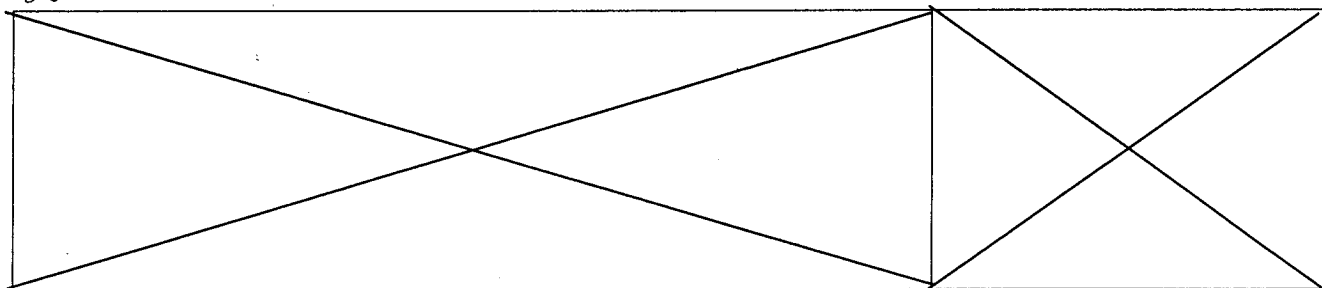
une pile.....

des comprimés périmés.....

de l'huile de vidange

| | |
|--------------------------------|---------------|
| C.A.P. SECTEUR INDUSTRIEL | N° d'anonymat |
| Vie sociale et professionnelle | Page 3/5 |

✂



4 – Thomas a signé le contrat de travail ci-joint (annexe 1), pour 6 heures par jour, avec une période d’essai d’un mois.

4.1 – Nommer en toutes lettres le type de contrat signé par Thomas. 1 point

.....

4.2 – Nommer les signataires de ce contrat. 1 point

.....

.....

4.3 – Indiquer le rôle du contrat de travail. 1 point

.....

.....

.....

4.4 – Relever la durée du travail hebdomadaire de Thomas. 0,5 point

.....

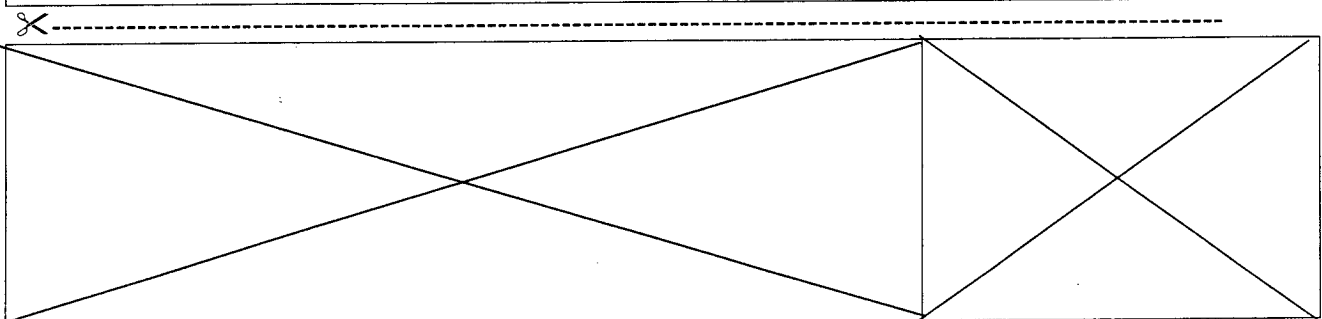
.....

4.5 – Thomas espère être embauché définitivement à l’issue du contrat de 8 mois.
Nommer le nouveau contrat de travail que Thomas devra alors signer. 1 point

.....

.....

| | |
|--------------------------------|---------------|
| C.A.P. SECTEUR INDUSTRIEL | N° d’anonymat |
| Vie sociale et professionnelle | Page 4/5 |



ANNEXE 1

CONTRAT DE TRAVAIL C.D.D.



Entre les soussignés **Entreprise METAL'** d'une part et

d'autre part a été convenu ce qui suit :

I ENGAGEMENT ET DUREE DU CONTRAT

Entreprise METAL' engage **Monsieur DURAL Thomas** qui accepte l'emploi de métallurgiste pour une durée de 8 mois à compter du **1er avril 2003** jusqu'au **31 octobre 2003** moyennant une période d'essai d'une semaine, pendant laquelle les deux parties pourront mettre fin au contrat sans délais de prévenance ni indemnités.

II REMUNERATION ET CONGES

En rémunération **Monsieur DURAL Thomas** bénéficiera d'un salaire calculé selon le SMIC en vigueur (au 1^{er} juillet 2002 et qui est de 6,83€). Son horaire hebdomadaire sera de 30 heures.
Les congés payés lui seront acquittés à son départ.

Lu et approuvé

Entreprise METAL'

| | |
|--------------------------------|---------------|
| C.A.P. SECTEUR INDUSTRIEL | N° d'anonymat |
| Vie sociale et professionnelle | Page 5/5 |

X

