

# CAP Métier de la MODE : Chapelier - Modiste

## ÉPREUVE EP2

Mise en œuvre de la réalisation de tout ou partie

Durée : 20 heures, coefficient 10

Session 2019


### DOSSIER RESSOURCES

#### Liste des documents ressources :

DT 1- Nomenclature	page 2
DT 2- Plan de travail	page 3 à 5
DT 3- Patron de la passe	page 6
DT 4- Fiche de contrôle qualité	page 7

CAP MÉTIERS DE LA MODE CHAPELIER MODISTE	RESSOURCES	Durée : 20H00	2019
EP2- Mise en œuvre de la réalisation de tout ou partie d'un ou partie d'un ou plusieurs produits.	1906 CAP MMCM EP2	Coef. : 10	Page 1/7




## DT 1- NOMENCLATURE CHAPEAU DIANA






8	1	Élastique	Caoutchouc	Système d'attache
7	1	Nœud	Paille de blé	Garniture calotte
6	1	Gros-grain	Coton noir n°5	Finition du bord de la passe
5	1	Gros-grain	Coton noir n°5	Finition entrée de tête
4	1	Corde à piano	Acier	Maintien du bord de la passe
3	2	Passe	Coton imprimé	Recouvrement dessus et dessous passe
2	2	Passe	Toile hollandaise	Base
1	1	Calot	Paille de blé	Base
<b>Rp</b>	<b>Nb</b>	<b>Désignation</b>	<b>Matière</b>	<b>Renseignement</b>
<b>NOMENCLATURE DIANA</b>				

CAP MÉTIERS DE LA MODE CHAPELIER MODISTE	RESSOURCES	Durée : 20H00	2019
EP2- Mise en œuvre de la réalisation de tout ou partie d'un ou partie d'un ou plusieurs produits.	1906 CAP MMCM EP2	Coef. : 10	Page 2/7

## DT 2- PLAN DE TRAVAIL

N°	Opérations	Schémas/photos	Indications Complémentaires
<b>RÉALISATION DU CALOT EN PAILLE</b>			
<b>Effectuer les opérations de mise en volume : mouler la paille sur bois</b>			
1	Humidifier la paille		
<b>Effectuer les opérations de mise en volume</b>			
2	Former le bouton sur votre type boule		Dans le sens inverse des aiguilles d'une montre, d'une hauteur de 2,5 cm
3	Former le rontonchon		
4	Suivre la forme de votre type boule en respectant les mesures demandées.		Milieu devant /dos = 17 cm Côté /côté 14,5 cm
5	Repasser sur votre type boule		Utiliser un fer à repasser
6	Continuer de coudre votre galon de paille en resserrant progressivement sur 4 cm et apprêter la paille. Mettre à sécher à l'étuve.		Mesures finales du calot : longueur 21 cm et Largeur 19 cm

CAP MÉTIERS DE LA MODE CHAPELIER MODISTE	RESSOURCES	Durée : 20H00	2019
EP2- Mise en œuvre de la réalisation de tout ou partie d'un ou partie d'un ou plusieurs produits.	1906 CAP MMCM EP2	Coef. : 10	Page 3/7

RÉALISATION DE LA PASSE			
7	Superposer les 2 épaisseurs de toile hollandaise		Référence au doc DT N° 3
8	Épingler et tracer autour du gabarit		
9	Tracer la passe à l'aide du gabarit		
10	Couper et bâtir le pourtour de la passe et de l'entrée de tête		
11	Mettre de la syngalette sur le dessus et le dessous de la passe		
12	Coudre la corde à piano sur la lame de la passe		
13	Couper une bande de syngalette de 5 cm, l'étirer		
14	Border la syngalette à cheval, au niveau de l'entrée de tête et le bord de la passe		
15	Glacer au fer à repasser		
16	Tracer des repères à 18 cm, de chaque côté du milieu dos		
17	Plier légèrement la corde à piano au niveau des repères, de façon à relever la passe au dos		
18	Recouvrir en collant le dessus et le dessous de la passe en tissu		
19	Border la passe et l'entrée de tête avec le gros grain à cheval		

CAP MÉTIERS DE LA MODE CHAPELIER MODISTE	RESSOURCES	Durée : 20H00	2019
EP2- Mise en œuvre de la réalisation de tout ou partie d'un ou partie d'un ou plusieurs produits.	1906 CAP MMCM EP2	Coef. : 10	Page 4/7

ASSEMBLAGE			
20	Coudre la passe sur le calot, d'après les mesures suivantes :		<p>Milieu devant : à 1,5 cm du calot  Milieu dos : à 4 cm du calot (photo 8)  Cotés : 2 cm du calot</p>

GARNITURE			
21	Réaliser un nœud en paille		De 10 cm de long et ajouter une bague en paille au centre
22	Fixer le nœud sur le calot, sous la passe, milieu dos, le nœud		

FINITION			
23	Coudre l'élastique		Longueur de l'élastique 33 cm, à l'intérieur du calot, à 10 cm de chaque côté du milieu dos
24	Coudre l'étiquette d'anonymat		Au point de chausson, à l'intérieur de la calotte (milieu dos)

PRÉSENTATION			
25	Présenter le chapeau sur le type boule.		

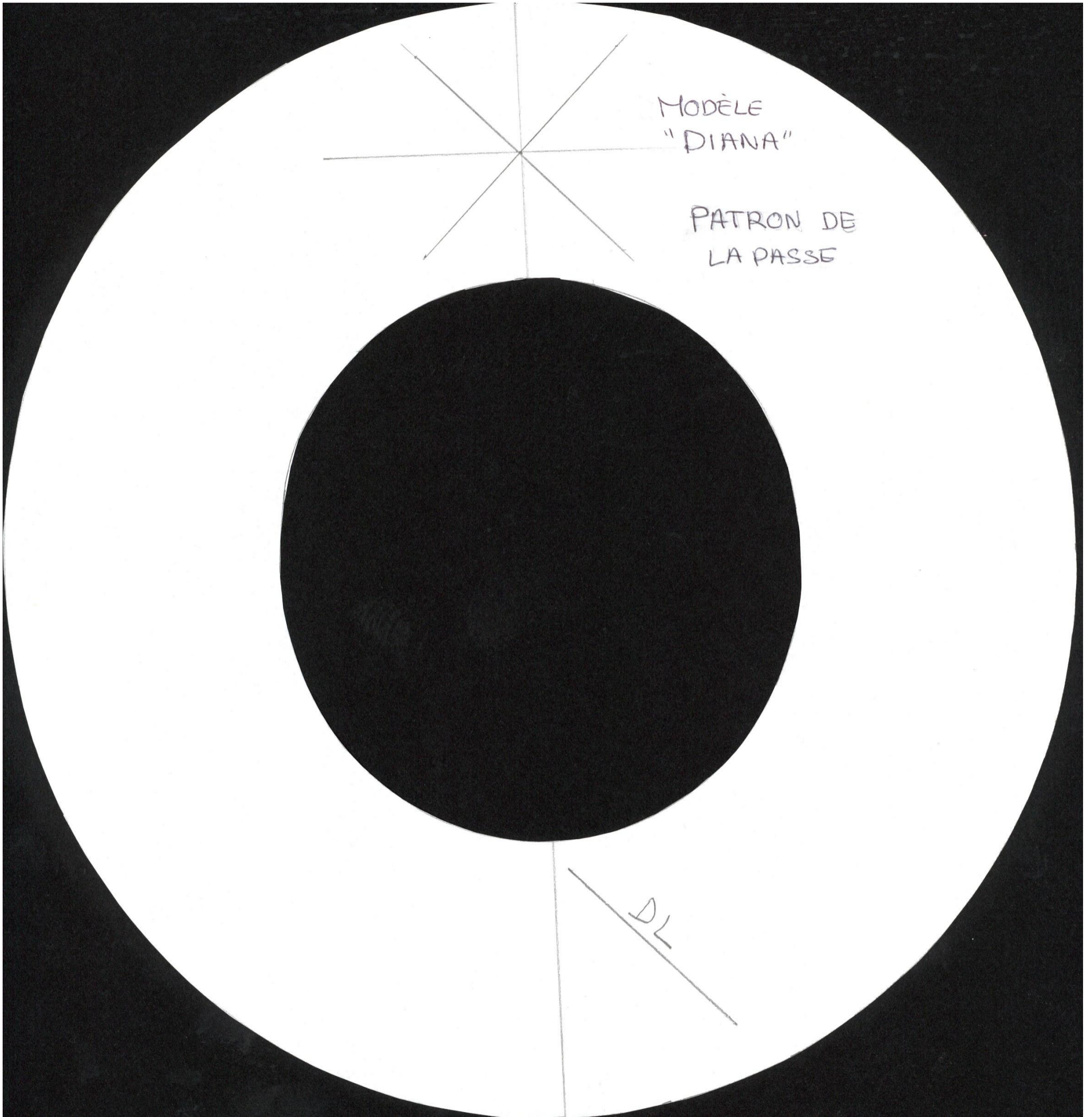
CONTRÔLER			
26	Contrôler les différents points		<p>Les dimensions  Le coiffant  Le confort  La conformité du modèle  L'adaptation esthétique</p>

CAP MÉTIERS DE LA MODE CHAPELIER MODISTE	RESSOURCES	Durée : 20H00	2019
EP2- Mise en œuvre de la réalisation de tout ou partie d'un ou partie d'un ou plusieurs produits.	1906 CAP MMCM EP2	Coef. : 10	Page 5/7

DT 3 PATRON DE LA PASSE

Échelle 1

T 44



CAP MÉTIERS DE LA MODE CHAPELIER MODISTE	RESSOURCES	Durée : 20H00	2019
EP2- Mise en œuvre de la réalisation de tout ou partie d'un ou partie d'un ou plusieurs produits.	1906 CAP MMCM EP2	Coef. : 10	Page 6/7


## DT 4- FICHE DE CONTRÔLE QUALITÉ



**Position de la passe sur le calot :**  
Milieu devant : à 1,5 cm du calot  
Côtés : 2 cm du calot



Position de la passe au milieu dos : au chic



CAP MÉTIERS DE LA MODE CHAPELIER MODISTE	RESSOURCES	Durée : 20H00	2019
EP2- Mise en œuvre de la réalisation de tout ou partie d'un ou partie d'un ou plusieurs produits.	1906 CAP MMCM EP2	Coef. : 10	Page 7/7